

فرض محروس

١

اللغة العربية

نقطتي

الفرض الأول الدورة الأولى

المستوى

2

مدرستي:

اسمي:

مكون التعبير: 10 نقط

1

1 - أرتب الكلمات الآتية لأكون منها جملاً مفيدة. (3 نقط)

.....

في

أساعد

أهي

المنزل

.....

النوم

مبكراً

من

أستيقظ

2 - أصل بخطّ يمين أداة الاستفهام والجُملة المناسبة لها. (3 نقط)

مَنْ

أَيْنَ

مَتَى

يَغْسِلُ الْآوَانِي؟

تَخْرُجُ مِنَ الْمَنْزِلِ؟

تَضَعُ أَدَوَاتِكَ؟

3 - أحوّل الجُملة الآتية حسب المطلوب. (4 نقط)

أَنَا قَرَأْتُ كِتَابًا مُفِيدًا.

أَنْتِ

هُوَ

فرض محروس

١

اللغة العربية

الفرض الأول الدورة الأولى

المستوى

2

مدرستي:

اسمي:

نقطتي

مكون الخط: 10 نقط

2

نقطتي

مكون الإملاء: 10 نقط

2

1 - أدخل "أل" القمرية أو "آل" الشمسية على الكلمات التالية. (5 نقط)

كُرّة شَمْسٌ

2 - أتمم الكلمات بهَمْزة الوُصل أو هَمْزة القُطْع. (5 نقط)

.... كل أَحْمَدُ وَجِبَةُ الغَذاءِ، وَ... تَجِهْ مُسْرِعاً إِلَى المَدْرَسَةِ.

مدرستي:	<h1>هواة الرياضيات</h1>	اسمي:
نقطتي	الفرض الأول الدورة الأولى	<div style="border: 2px solid black; border-radius: 50%; width: 60px; height: 60px; display: flex; align-items: center; justify-content: center; margin: 0 auto;"> <div style="font-size: 2em; font-weight: bold;">2</div> <div style="margin-left: 5px;">المستوى</div> </div>

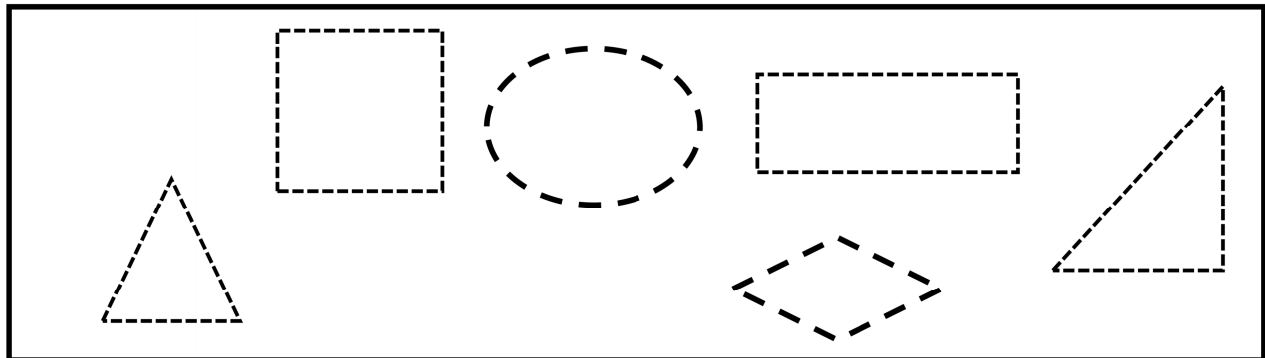
1- اعدوا اكملا:

$\dots + \dots = \dots$	<table border="1" style="width: 100%; border-collapse: collapse;"> <tr> <td style="width: 50%; padding: 5px;">عشرات</td> <td style="width: 50%; padding: 5px;">وحدات</td> </tr> <tr> <td style="height: 40px;"></td> <td style="height: 40px;"></td> </tr> </table>	عشرات	وحدات			<div style="display: flex; justify-content: space-around; align-items: center;"> <div style="border: 1px solid black; border-radius: 50%; width: 40px; height: 40px; display: flex; align-items: center; justify-content: center; font-size: 1.2em;">10</div> <div style="font-size: 1.5em;">○</div> <div style="border: 1px solid black; border-radius: 50%; width: 40px; height: 40px; display: flex; align-items: center; justify-content: center; font-size: 1.2em;">10</div> </div> <div style="display: flex; justify-content: space-around; align-items: center; margin-top: 10px;"> <div style="border: 1px solid black; border-radius: 50%; width: 40px; height: 40px; display: flex; align-items: center; justify-content: center; font-size: 1.2em;">10</div> <div style="font-size: 1.5em;">○</div> <div style="border: 1px solid black; border-radius: 50%; width: 40px; height: 40px; display: flex; align-items: center; justify-content: center; font-size: 1.2em;">10</div> </div>
عشرات	وحدات					

2- اقرن العددين بوضع الرمز المناسب: = > <

32 23	40 + 4 44	56 65
-------------	----------------	-------------

3- ارسم و اللون مسنطيل و مربعا و مثلثا قائم الزاوية مسنملا النقط:



4- اسنعمل الارقام 2 - 5 - 3 و اكتب:

.....	أكبر عدد:	أصغر عدد:
-------	-----------	-------	-----------

بالتوفيق و النجاح ان شاء الله

مدرستي:

هبة النشاط العلقي

اسمي:

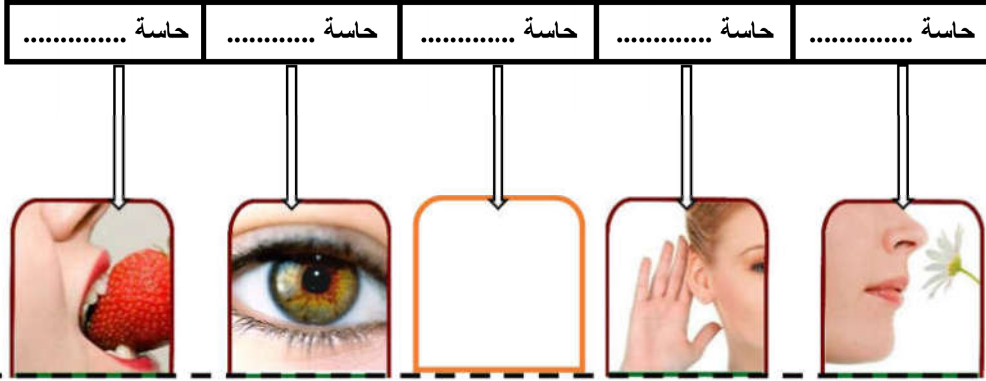
نقطتي

الفرض الأول الدورة الأولى

المستوى

2

1- اكتب أسماء الحواس التي على الصور و الحاسة الناقصة:



2- اكتب الكلمة المناسبة في مكانها: مزجة: أو هادئة:

يرقصون على موسيقى



يسمع الأطفال الى موسيقى




≠

3- عند كتابة الاملاء سنعمل حواسي التالية:

حاسة

حاسة

حاسة



بالنوفيق و النجاح ان شاء الله

من إعداد الأستاذ: عبدالواحد أزمي حسني

أصل كل حاسة بالعضو المرتبط بها (2.5ن)


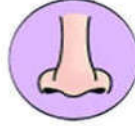

حَاسَّة الذَّوْق

حَاسَّة السَّمْع

حَاسَّة البَصَر

حَاسَّة اللمس

حَاسَّة الشَّم



ضع علامة في الخانة المناسبة (2.5ن)

أضع علامة (x) تحت الأصوات المزعجة (4ن)


☐

☐

☐

☐

اعداد ذ.كريم أوفقيير

عن موقع وثيقتي الراءد في توفير وثائق الأستاذ والمتعلم

www.watiqati.net



نقطتي

الفرض الأول المرحلة الأولى


المستوى

2

مدرستي:

اسمي:

1 - أَلَوْنُ الْبَقَرَةِ بِاسْتِعْمَالِ أَلْوَانٍ فَاتِحَةٍ وَأَلْوَانٍ غَامِقَةٍ: (5 نقط)



2 - أَزَيِّنُ الْكَلِمَةَ «بَقَرَةٌ» بِاسْتِعْمَالِ أَشْكَالٍ هَنْدَسِيَّةٍ: (5 نقط)



فرض محروس



التربية الإسلامية

الفرض الأول الدورة الأولى

نقطتي

المستوى

2

مدرستي:

اسمي:

1 - اسْتَظْهَرِ سُورَةَ مِنْ اخْتِيَارِ اسْتَاذِي (الفاتحة، الفيل، قريش). (نقطتان)

2 - لَوْنُ كُلِّ آيَةٍ وَاسْمُ سُورَتِهَا بِنَفْسِ اللَّوْنِ: (نقطتان)

سُورَةُ قُرَيْشٍ

سُورَةُ الْفِيلِ

فَلْيَعْبُدُوا رَبَّ هَذَا الْبَيْتِ

وَأَرْسَلَ عَلَيْهِمْ طَيْرًا أَبَابِيلَ

3 - لَوْنُ اسْمِ أَبٍ وَ اسْمِ أُمِّ رَسُولِ اللَّهِ مُحَمَّدٍ عَلَيْهِ الصَّلَاةُ وَالسَّلَامُ: (نقطتان)

خَدِجَةُ

أَمِينَةُ

حَلِيمَةُ

عَبْدُ اللَّهِ

حَمْرَةَ

عَلِيٍّ

4 - رَتَّبِ الصُّورَ بِوَضْعِ الْأَرْقَامِ حَسَبَ تَسْلُسُلِ مَرَاكِجِ الْوُضُوءِ: (نقطتان)




5 - أَضَعْ الْعَلَامَةَ (X) أَمَامَ السُّلُوكِ الْجَيِّدِ وَ (O) أَمَامَ السُّلُوكِ الْقَبِيحِ: (نقطتان)

لَا أَهْتَمُّ بِنِظَافَةِ ثِيَابِي.



يَجِبُ أَنْ أُشَارِكَ فِي حَمَلَاتِ النِّظَافَةِ.



أَزِمِّي الْأَوْسَاحَ فِي السَّاحَةِ.



المؤسسة :

10

الإسم :

1

❖ أتمم الفراغ بما يناسب : حاسة السمع - حاسة اللمس - حاسة البصر - حاسة الشم.

/2

❖ أميز البارد عن الساخن بواسطة :

❖ أتعرف صوت محرك السيارة بواسطة :

2

❖ أصل بخط بين كل عضو من الأعضاء في الصور الخمسة بحاسته المناسبة :

/2



حاسة السمع



حاسة الذوق



حاسة الشم



حاسة البصر



حاسة اللمس

3

❖ أضع العلامة (X) في خانة السلوك الذي يضر بكل حاسة :

/3

التصرفات الحاسة	الاقتراب من أزبال متراكمة	الاستماع الى أصوات صاخبة	تناول طعام ساخن جداً	اللعب بأعواد الثقاب و النار	مشاهدة التلفاز لمدة طويلة
اللمس					
البصر					
الشم					
الذوق					
السمع					

4

❖ أكمل الاستنتاج التالي بالكلمة المناسبة : محيطي - تتكامل - فيما بينها .


/1

..... حواسي لاستكشاف الخارجي.

5

❖ أكتب اسم الصوت تحت مصدره : نباح ، مواء ، نهيق ، صياح.

/2



فرض محروس



مادة الرياضيات

الفرض الأول الدورة الأولى

نقطتي

المستوى

2

مدرستي:

اسمي:

2 - أقرن بوضع الرمز < أو > : (نقطتان)

54 22

44 18

12 21

36 23

5+10 33

48 42

1 - أنجز العمليات التالية: (نقطتان)

$$\begin{array}{r} 36 \\ + 26 \\ \hline = . . \end{array}$$

$$\begin{array}{r} 25 \\ + 43 \\ \hline = . . \end{array}$$

3 - أصل بخط كل ساعة بمقابلتها الرقمية: (نقطتان)



04:30



07:00



10:00

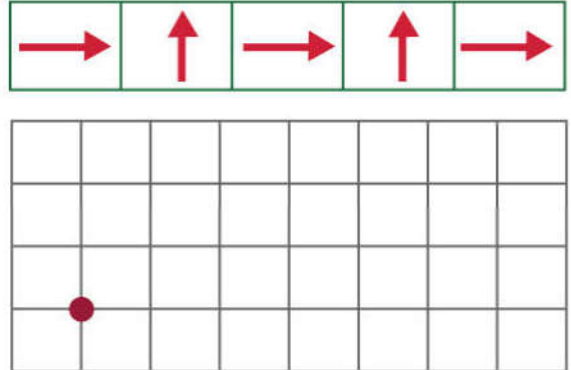


01:15

5 - أرسم مستقيما وقطعة: (نقطتان)



4 - أرسم المسار على الشبكة: (نقطتان)



فرض محروس



النشاط العلمي

نقطتي

الفرض الأول الدورة الأولى

المستوى

2

مدرستي:

اسمي:

1 - أتمم كتابة أيام الأسبوع بالتسلسل : (نقطتان • •)

الأثنين - الأربعاء - - الأحد

2 - أصنف أسماء الشهور الآتية حسب الجدول أسفله: (4 نقط • • • •)

أبريل - محرم - صفر - شوال - فبراير - يوليو - رمضان - دجنبر

الشهور الميلادية	

الشهور الهجرية	

3 - أصل بخط : (2 نقط • •)



04:30



07:00



10:00



01:15

4 - أكتب تحت كل صورة اسم الحاسة : السمع - البصر - اللمس (2 نقط • •)

